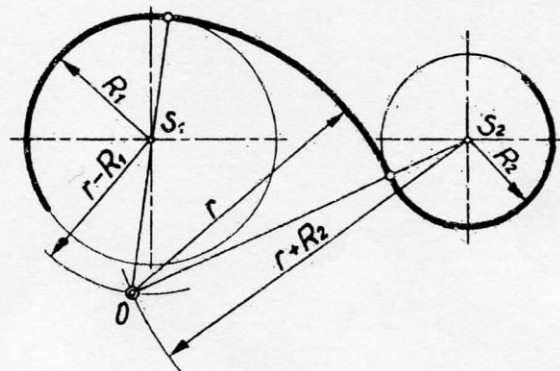
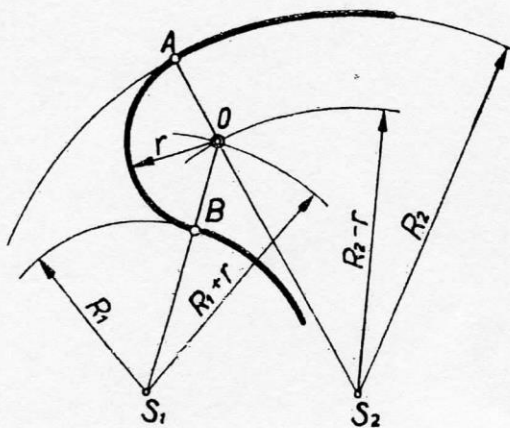
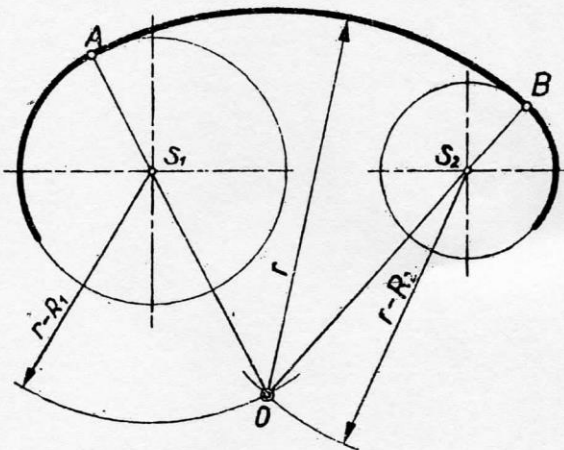
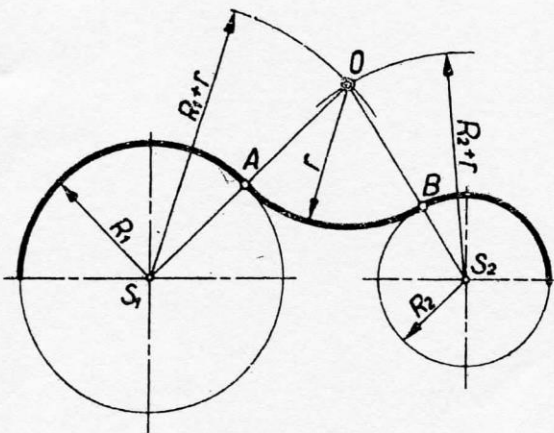
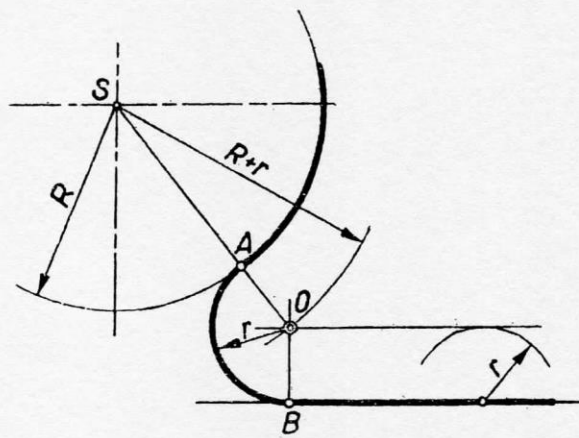
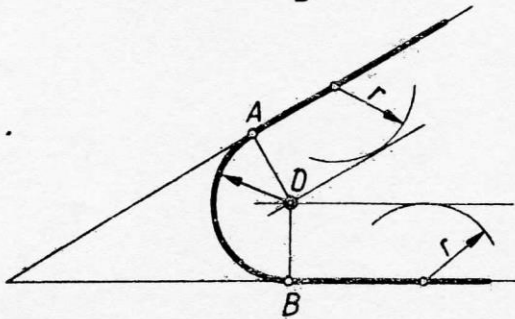
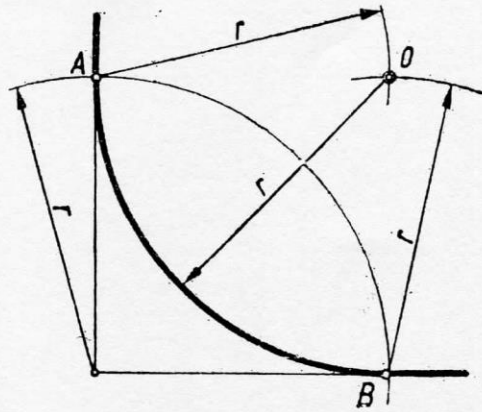
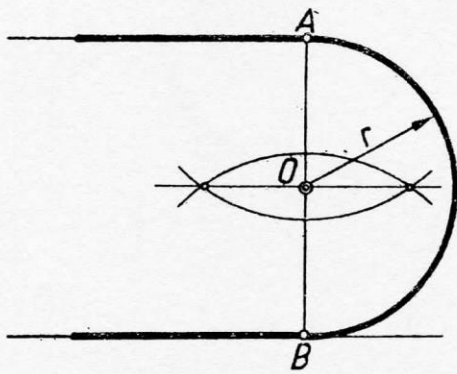


# Łączenie prostych i okręgów łukiem o danym promieniu

C11



## **ZADANIE**

ćwiczenia nr **1/1**:

Temat: **KONSTRUKCJE GEOMETRYCZNE**

Format: A-4 , blok techniczny,

Technika: ołówek grub. 0,7 i 0,5; ekierki, linijki, cyrkiel.

Forma: ramka, tabliczka podstawowa wg wzoru.

*Zadania wg wzoru, nazwę można pominąć.*

Literatura:

Bogaczyk T. - 13 wykładów z geometrii wykreślnej. Oficyna Wydawnicza Politechniki Wrocławskiej.

Igor Rydzanicz - Zapis konstrukcji Zadania.

Dobrzański T. – Rysunek techniczny maszynowy. Wydawnictwo Naukowe PWN. 2017.